

**SULIT**



**PERSIDANGAN KEBANGSAAN PENGETUA-PENGETUA  
SEKOLAH MENENGAH MALAYSIA  
CAWANGAN NEGERI SEMBILAN DARUL KHUSUS**

---

**PEPERIKSAAN PERCUBAAN BERSAMA 1249/1  
SIJIL PELAJARAN MALAYSIA 2010**

**SEJARAH**

**Kertas 1**

**Ogos**

1 jam

Satu jam

---

**JANGAN BUKA KERTAS SOALAN INI SEHINGGA DIBERITAHU**

1. *Kertas soalan ini mengandungi 40 soalan.*
2. *Jawab **semua** soalan.*
3. *Tiap-tiap soalan diikuti empat pilihan jawapan, iaitu **A, B, C dan D**. Bagi setiap soalan, pilih **satu** jawapan sahaja. **Hitamkan** jawapan anda pada kertas jawapan objektif yang disediakan.*
4. *Jika anda hendak menukarkan jawapan, padamkan tanda yang telah dibuat. Kemudian hitamkan jawapan yang baru.*

---

Kertas soalan ini mengandungi **14** halaman bercetak.

**[Lihat sebelah**

- 1 Secara evolusi kepercayaan sesebuah masyarakat bertukar menjadi agama dan kebanyakannya berbentuk politeisme.

Apakah yang dimaksudkan dengan agama politeisme ?

- A Penyembahan terhadap lebih daripada satu tuhan
- B Penyembahan terhadap alam sekeliling
- C Pemujaan terhadap alam ghaib
- D Pemujaan terhadap roh

- 2 Ciri-ciri tamadun berikut merujuk kepada sebuah tamadun awal manusia.

- Terletak di kawasan yang subur
- Lokasinya jauh dari pusat tamadun dunia yang lain
- Jumpaan tengkorak *homo sepian* dikenali sebagai *Peking Men*

Apakah tamadun tersebut ?

- A Mesopotamia
- B Mesir Purba
- C Hwang Ho
- D Indus

- 3 Pernyataan berikut berkaitan seni bina dalam tamadun Rom.

- Terdapat binaan berbentuk kubah
- Dibina pada zaman Maharaja Hadrian
- Sebagai tempat memuja dan menyimpan patung

Apakah nama senibina tersebut?

- A Aqueduct
- B Colloseum
- C Pantheon
- D Acropolis

4 Apakah agama yang dikaitkan dengan pernyataan di bawah?

- Diterima dengan baik di Tibet dan Sri Lanka
- Kitab suci ialah Tripitaka yang menggunakan bahasa Pali

- A Hindu
- B Buddha
- C Taoisme
- D Confucianisme
- 5 Mengapakah kerajaan maritim dan agraria di Asia Tenggara menjalin hubungan yang baik?

- A Sistem ekonomi yang sama
- B Mengamalkan perluasan kuasa
- C Menghormati kedaulatan masing – masing
- D Saling melengkapi antara satu sama lain

6 Gambar 1 menunjukkan Telaga Batu yang terdapat di Palembang.



Gambar 1

Mengapakah orang yang dilantik menjadi *datu* perlu melakukan upacara angkat sumpah di telaga tersebut?

- A Mengakui raja sebagai dewa-raja
- B Mempercayai kesaktian raja
- C Menjamin kesetiaan pembesar
- D Mempercayai kesaktian Telaga Batu

**Lihat sebelah**

- 7 Maklumat berikut menunjukkan reaksi masyarakat Arab Jahiliah semasa kelahiran bayi.

“Sekiranya salah seorang diberitahu tentang kelahiran anak perempuan, mukanya menjadi merah kerana terlalu marah.... ”

Mengapakah timbul perasaan tersebut?

- A Menjatuhkan maruah keluarga
  - B Menganggap wanita lemah
  - C Membebankan keluarga
  - D Merosakkan keturunan
- 8 Kebanyakan penganut Islam pada peringkat awal terdiri daripada golongan bawahan seperti hamba.

Mengapakah golongan tersebut tertarik kepada agama Islam ?

- A Layanan yang sama kepada semua manusia
  - B Nabi sentiasa bersikap baik terhadap mereka
  - C Dimerdekakan oleh tuan mereka
  - D Nasib mereka sentiasa dibela
- 9 Maklumat berikut adalah contoh perlembagaan bertulis yang terawal di dunia.

- Piagam Madinah
- Perlembagaan Amerika Syarikat
- Perlembagaan Perancis

Apakah persamaan yang terdapat pada ketiga-tiga perlembagaan tersebut?

- A Mengamalkan sistem demokrasi berparlimen
- B Mempunyai raja sebagai simbol kedaulatan
- C Menjadi asas pembentukan negara berdaulat
- D Memilih pemimpin melalui pilihan raya

- 10 Maklumat berikut merupakan petikan khutbah terakhir Nabi Muhammad s.a.w.

“..... Hai manusia, saya telah meninggalkan kepada kamu satu *pusaka* dan kamu tidak akan sesat selama-lamanya selagi kamu masih berpegang kepada *pusaka* ini”.

- Apakah *pusaka* tersebut?
- A Al-Quran dan qias  
B Hadis dan qias  
C Hadis dan ijmak  
D Al-Quran dan sunnah
- 11 Apakah peranan utama kota Baghdad semasa pemerintahan kerajaan Bani Abbasiyah?
- A Perdagangan antarabangsa  
B Penulisan dan penterjemahan  
C Perusahaan pembuatan barangan  
D Perkembangan kesenian dan kesusasteraan
- 12 Golongan berikut muncul semasa pertembungan kebudayaan antara tamadun Islam dengan tamadun lain di dunia.


Orang tempatan yang beragama Kristian tetapi mengamalkan kebudayaan Islam dan berbahasa Arab.

Siapakah golongan tersebut?

- A Mozarab  
B Mudejar  
C Mawali  
D Muhajirin

[Lihat sebelah

- 13 Gambar 2 menunjukkan Batu Bersurat yang ditemui di Kuala Sungai Tersat, Kuala Berang, Terengganu.



Gambar 2

- Apakah maklumat yang tercatat pada batu bersurat tersebut?
- A Tatacara urusan perniagaan  
 B Tanggungjawab raja dan pembesar  
 C Kewajipan menjalankan hukum syarak  
 D Ketaatan kepada sultan dan kerajaan
- 14 Jadual 1 menunjukkan institusi pendidikan formal di Asia Tenggara.

Negara	Institusi Pendidikan
Tanah Melayu	X
Acheh	Dayah
Jawa	Pesantren

Jadual 1

Apakah X?

- A Surau  
 B Istana  
 C Madrasah  
 D Pondok

- 15 Kata perbilangan adat berikut diamalkan oleh masyarakat Melayu.

*Sesusun seperti sirih,  
serumpun seperti serai,  
seikat seperti lembing,  
sedencing seperti besi.*

Apakah nilai yang digambarkan oleh kata perbilangan adat tersebut?

- A Setiakawan  
B Perpaduan  
C Kepimpinan  
D Tanggungjawab
- 16 Senarai berikut merupakan amalan gaya hidup masyarakat Melayu tradisional yang selaras dengan ajaran Islam.

- Bertutur dengan suara yang rendah
- Menggunakan panggilan seperti *pak long* dan *mak long*
- Mencium tangan ketika bersalaman

Mengapakah amalan tersebut dilakukan?

- A Mengekalkan adat istiadat  
B Mengukuhkan konsep kesetiaan  
C Memelihara kebudayaan bangsa  
D Menghormati orang yang lebih tua
- 17 Jadual 2 menunjukkan perkembangan teknologi enjin berkuasa wap dalam revolusi pengangkutan di Britain pada abad ke-19.

Tahun	Kegunaan
1800-an	Untuk memacu bot
1820-an	Untuk memacu kenderaan di darat
1829	Lokomotif dengan kelajuan 16 batu sejam

Jadual 2

Mengapakah teknologi tersebut berkembang pesat?

- A Penguasaan ekonomi  
B Keperluan awam  
C Pelaburan modal  
D Kestabilan politik

[Lihat sebelah

18 Mengapakah imperialis Barat menyusun semula kegiatan ekonomi peribumi di negara yang dijajah?

- A Menunjukkan kewibawaan peradaban Barat
- B Memberi manfaat kepada ekonomi negara metropolitan
- C Memberi peluang pekerjaan kepada penduduk tempatan
- D Membangunkan ekonomi penduduk peribumi

19 Dialog berikut berkaitan cara kemasukan buruh China ke Tanah Melayu pada abad ke-19.

A : Bagaimanakah anda datang ke sini?  
 B : Pada mulanya saya diambil oleh *kheh-thau*. Selepas itu saya membuat perjanjian untuk bekerja dengan majikan bagi menjelaskan hutang saya.

Apakah cara kemasukan buruh tersebut?

- A Sistem Pengambilan Rumah Kongsi
  - B Sistem Pengambilan Kakitangan
  - C Sistem Tiket Kredit
  - D Sistem Kontrak
- 20 Tokoh berikut memainkan peranan penting dalam perkembangan perusahaan getah di Tanah Melayu.

Tokoh	Penemuan
Henry N. Ridley	Memperkenalkan sistem menoreh secara <i>ibedem</i> atau seperti bentuk tulang ikan hering

Apakah kelebihan sistem torehan tersebut?

- A Kurangkan kos torehan
- B Tingkatkan kualiti getah
- C Kurangkan tenaga buruh
- D Tidak merosakkan pokok

- 21 Sistem Encomienda dilaksanakan oleh Sepanyol di Filipina.  
Mengapakah sistem tersebut dibenci oleh masyarakat Filipina?
- A Melantik pegawai barat dalam pentadbiran
  - B Mengadakan kerahan tenaga
  - C Mengamalkan dasar keterbukaan
  - D Mendiskriminasikan penduduk peribumi
- 22 Mengapakah Sarekat Islam mendesak Belanda menubuhkan Volksraad?
- A Menjadi penasihat dalam pentadbiran
  - B Merupakan langkah awal ke arah kemerdekaan
  - C Menyekat pengaruh luar dalam kalangan penduduk
  - D Memajukan ekonomi penduduk Islam
- 23 Jadual 3 berkaitan perjuangan tokoh tempatan menentang British.

Negeri	Tokoh
Kelantan	Tok Janggut
Terengganu	Haji Abdul Rahman Limbong

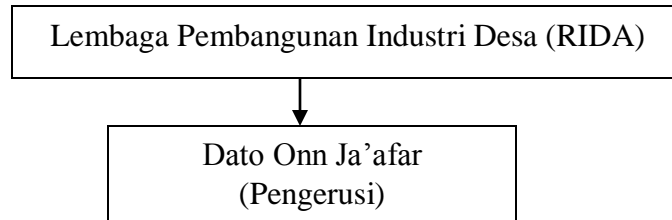
Jadual 3

- Apakah persamaan perjuangan tokoh tersebut?
- A Pemimpin hilang kuasa
  - B Pelaksanaan sistem cukai
  - C Penguatkuasaan undang-undang Barat
  - D Penduduk dipaksa menerima nilai-nilai British
- 24 Apakah matlamat perjuangan Kesatuan Melayu Muda (KMM) yang dipimpin oleh Ibrahim Haji Yaakob?
- A Menghalau British dari Tanah Melayu
  - B Memajukan sosioekonomi orang Melayu
  - C Meningkatkan pendidikan orang Melayu
  - D Menghapuskan semangat kenegerian

[Lihat sebelah

- 25 Apakah isi penting naskhah karangan *Sulalatus Salatin* oleh Tun Seri Lanang?
- A Pengaruh Hindu Buddha dalam masyarakat
  - B Pengamalan adat resam masyarakat Melayu
  - C Pantang larang dalam anggota masyarakat
  - D Peradaban dan peraturan kenegaraan
- 26 Bagaimanakah Undang-Undang Tubuh Terengganu dapat menghalang perluasan kuasa British?
- A Pembesar tidak boleh mengkhianati negeri
  - B Pemerintah dipilih melalui musyawarah
  - C Pembesar mesti berpendidikan Islam
  - D Pemerintah memiliki kuasa mutlak
- 27 Maklumat berikut berkaitan sebuah perlembagaan di Tanah Melayu.
- Singapura disatukan dengan Tanah Melayu
  - Kedudukan istimewa orang Melayu dikembalikan
  - Bahasa Melayu harus menjadi bahasa kebangsaan
- Apakah perlembagaan tersebut?
- A Perlembagaan Tanah Melayu 1957
  - B Perlembagaan Rakyat 1947
  - C Perlembagaan Sarawak 1941
  - D Perlembagaan Malayan Union 1946
- 28 Apakah kesan penting penubuhan Rukun Tiga Belas di Sarawak pada tahun 1946?
- A Peletakan jawatan kakitangan awam
  - B Pembunuhan Gabenor Sarawak
  - C Pemberontak dihukum gantung
  - D Pemimpin pelajar dipenjarakan

- 29 Rajah 1 menerangkan hasil perundingan UMNO - Jawatankuasa Hubungan Antara Kaum (CLC) pada tahun 1949.



Rajah 1

- Mengapakah RIDA ditubuhkan?
- A Menggalakkan masyarakat luar bandar bersatu
  - B Memajukan ekonomi masyarakat luar bandar
  - C Mengekalkan orang Melayu sebagai petani
  - D Memasarkan hasil pertanian penduduk
- 30 Maklumat berikut berkaitan isu hangat yang dibincangkan semasa pembentukan Persekutuan Tanah Melayu 1957.

Selepas beberapa perundingan di buat, maka Raja-Raja Melayu telah menerima kerakyatan jus soli dengan bersyarat.

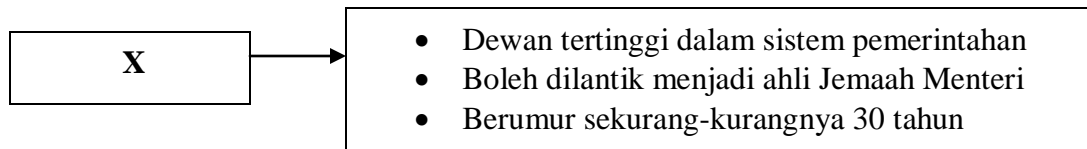
- Apakah syarat tersebut?
- A Kekebalan kuasa Raja-Raja Melayu
  - B Kebebasan beragama kepada bukan Melayu
  - C Kedaulatan Raja-Raja Melayu dikembalikan
  - D Kedudukan istimewa orang Melayu diiktiraf
- 31 Mengapakah Tunku Abdul Rahman menolak idea penggabungan Singapura dengan Persekutuan Tanah Melayu oleh Lee Kuan Yew pada tahun 1959?
- A Melambatkan proses kemerdekaan
  - B Mewujudkan ketidakseimbangan kaum
  - C Menjejaskan pertumbuhan ekonomi
  - D Meluaskan fahaman komunis

[Lihat sebelah

32 Apakah pertubuhan yang dibentuk untuk mengurangkan ketegangan hubungan diplomatik antara Malaysia, Filipina dan Indonesia pada tahun 1963?

- A ASA
- B ASEAN
- C SEAMEO
- D MAPHILINDO

33 Rajah 2 menerangkan Badan Perundangan di Malaysia



Rajah 2

Apakah X?

- A Dewan Perundangan
  - B Dewan Rakyat
  - C Dewan Negara
  - D Dewan Undangan Negeri
- 34 Gambar 3 menunjukkan Jata Negara Malaysia.



Gambar 3

Apakah maksud dua ekor harimau tersebut?

- A Kedaulatan
- B Perpaduan
- C Keberanian
- D Persekutuan

- 35 Mengapakah Institut Penyelidikan dan Kemajuan Pertanian Malaysia (MARDI) ditubuhkan pada tahun 1969?
- A Menjalankan penyelidikan pertanian
  - B Menggalakkan penanaman getah
  - C Menyediakan sumber kewangan
  - D Membuka tanah-tanah baru
- 36 Apakah perkara yang ditekankan oleh Jawatankuasa Kabinet 1974 dalam sistem pendidikan kebangsaan?
- I Pelajaran percuma
  - II Sekolah vokasional
  - III Penekanan kokurikulum
  - IV Sekolah Berprestasi Tinggi
- A I dan II
  - B I dan IV
  - C II dan III
  - D III dan IV
- 37 Mengapakah perpaduan menjadi keutamaan dalam pembentukan dasar kerajaan Malaysia?
- A Menjamin keseimbangan ekonomi
  - B Menjadi asas kekuatan sesebuah negara
  - C Mengimbangi jurang perbezaan kaum
  - D Menjamin pengamalan demokrasi

**[Lihat sebelah**

- 38 Pada abad ke-19, muncul persaingan kuasa oleh imperialis baru seperti Itali, Jerman dan Rusia.

Mengapakah berlakunya persaingan tersebut?

- I Pemasaran barangan siap
  - II Pemilikan bahan mentah
  - III Penyebaran tamadun
  - IV Penyebaran ideologi
- A I dan II
  - B I dan IV
  - C II dan III
  - D III dan IV
- 39 Negara-negara Islam yang kurang maju seperti Sudan, Nigeria dan Chad telah menerima bantuan daripada Pertubuhan Persidangan Islam (OIC).

Apakah bantuan tersebut?

- A Kewangan
  - B Pendidikan
  - C Perubatan
  - D Keselamatan
- 40 Bagaimanakah k - masyarakat dapat dibentuk di Malaysia?
- A Membina infrastruktur yang lengkap
  - B Menggalakkan pelaburan asing
  - C Memajukan sektor perindustrian
  - D Mewujudkan pembelajaran sepanjang hayat

**KERTAS SOALAN TAMAT**