



LATHIAN FOKUS 2009

SEJARAH Tingkatan 4 Bab 1



**MASARIAH MISPARI
MAKTAB TENTERA DIRAJA
KUALA LUMPUR**



**PN. MASARIAH BINTI MISPARI
MAKTAB TENTERA DIRAJA**

Analisis SPM 2004 2008
Soalan objektif , struktur danesei
Disusun mengikut bab
Aras KBKK, aplikasi kemahiran dan isu
semasa
Fokus latihan SPM 2009
Sebagai latihan kemahiran menjawab SPM

Tingkatan 4	Bab 1	Bab 2	Bab 3	Bab 4	Bab 5
	Bab 6	Bab 7	Bab 8	Bab 9	Bab 10



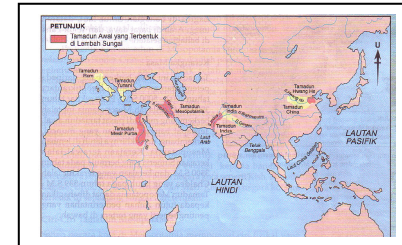
Subtajak	2004		2005		2006		2007		2008		2009	
	S	E	S	E	S	E	S	E	S	E	S	E
1.1 Makna Tamadun						√						
1.1.1 Peradaban (Bahasa Melayu)												
1.1.2 Madana (Bahasa Arab)						√						
1.1.3 Civilization (Bahasa Inggeris)						√						
1.2 Ciri-ciri Tamadun	√											
1.2.1 Petempatan Kekal						√						
1.2.2 Kehidupan Berorganisasi						√						
1.2.3 Sistem Pemerintahan						√						
1.2.4 Pengkhususan Pekerjaan						√						
1.2.5 Agama dan Kepercayaan						√						
1.2.6 Bahasa dan Sistem Tulisan						√						
1.3 Proses Pembentukan Tamadun												
1.3.1 Tamadun Mesopotamia						√						
1.3.2 Tamadun Mesir Purba									√			
1.3.3 Tamadun Indus												
1.3.4 Tamadun Hwang Ho												



Item Objektif

M.S. 9

1. Peta berikut menunjukkan tamadun awal dunia.

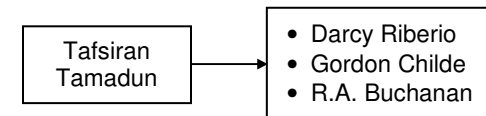


Apakah ciri persamaan tamadun tersebut?

- | | |
|----------------------------|--------------------------------------|
| I Wujud sistem tulisan | III Pentadbiran bercorak demokrasi |
| II Lokasi di lembah sungai | IV Pendidikan menekankan ketenteraan |
| A I dan II | C II dan III |
| B I dan IV | D III dan IV |

M.S. 5

2. Rajah berikut menunjukkan tokoh yang memberi maksud Tamadun.

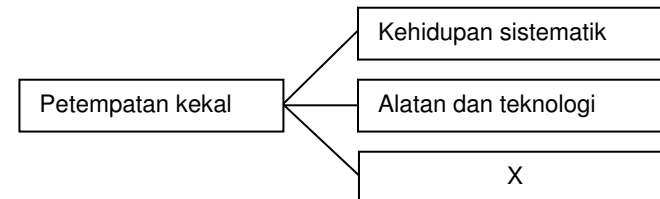


Tokoh-tokoh tersebut berpendapat pengertian tamadun berkait rapat dengan pembangunan

- | | |
|------------|-------------------------|
| A lahiriah | C moral dan tatasusila |
| B rohaniah | D lahiriah dan rohaniah |

M.S.6

3. Rajah di bawah menunjukkan ciri petempatan kekal bagi sebuah petempatan bertamadun.



Apakah X ?

- | | |
|-------------------|-----------------------------------|
| A Mempunyai hamba | C Kewujudan sistem perundangan |
| B rohaniah | D Mengamalkan pemerintahan beraja |



BAB 1 KEMUNCULAN TAMADUN AWAL MANUSIA

SPM2006/s3/M.S.27

17. Rajah berikut menunjukkan pertembungan tamadun awal.




Apakah kesan pertembungan tersebut kepada tamadun Indus?

- A Pembinaan bandar terancang
- B Peningkatan teknologi pertanian
- C Perluasan kawasan pemerintahan
- D Perkembangan hasil kesusasteraan

SPM2006/s4/M.S.32

18. Gambar berikut menunjukkan tulang oracle masyarakat China.



Apakah kepentingan tulang tersebut?

- A Senjata untuk berperang
- B Pengenalan sistem tulisan
- C Alat upacara pengebumian
- D Lambang status masyarakat

SPM2007/s1/M.S.22

19. Antara yang berikut, yang manakah sumbangan tamadun Mesir Purba?

- I Kolar kuda
- II Pedati beroda
- III Tulisan hieroglif
- IV Sistem kalendar

- A I dan II
- B I dan IV
- C II dan III
- D III dan IV

SPM2007/s2/M.S.31

20. Andaikan anda seorang pembesar pada zaman Dinasti Chou di China. Apakah yang anda lakukan untuk membuktikan kesetiaan anda kepada raja?

- I Menjadi penghibur
- II Menyerahkan ufti
- III Melafazkan taat setia
- IV Memberi bantuan ketenteraan

- A I dan II
- B I dan IV
- C II dan III
- D III dan IV

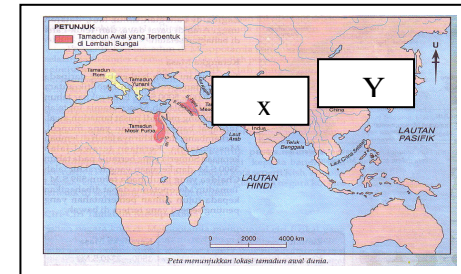


BAB 1 KEMUNCULAN TAMADUN AWAL MANUSIA

Item Berstruktur

Buku Teks m.s. 4 – 9

1. Peta berikut menunjukkan lokasi Tamadun awal dunia.



(a) Namakan lokasi berikut.

- i. X ialah
- ii. Y ialah

[2 markah]

(b) Apakah maksud tamadun mengikut Islam?

- i.
- ii.

[2 markah]

(c) Jelaskan maksud tamadun daripada pandangan Barat.

- i.
- ii.

[2 markah]

(d) Apakah ciri-ciri yang menunjukkan sesebuah masyarakat telah mencapai ciri tamadun?

- i.
- ii.

[2 markah]

(e) Apakah ciri masyarakat tidak bertamadun di dunia moden hari ini?

- i.
- ii.

[2 markah]



BAB 1 KEMUNCULAN TAMADUN AWAL MANUSIA

Buku Teks m.s. 5 – 8

2. Jadual berikut menunjukkan carta masa pembentukan tamadun awal.

Tamadun	Masa
X	3500 s.m.
Mesir	3100 s.m
Indus	2500 s.m
Y	1800 s.m.

(a) Lengkapkan maklumat berikut.

- i. X ialah
- ii. Y ialah

[2 markah]

(b) Senaraikan ciri-ciri tamadun daripada aspek

Sistem Pemerintahan

- i.
-
-

[1 markah]

Agama dan Kepercayaan

- i.
-

[1 markah]

Ciptaan, Tulisan dan Bahasa

- i.
-
-

[1 markah]

Pengkhususan Kerja

- i.
-
-

[1 markah]



BAB 1 KEMUNCULAN TAMADUN AWAL MANUSIA

Organisasi Sosial

- i.
-
-

[1 markah]

(c) Bagaimanakah petempatan kekal berupaya membentuk masyarakat bertamadun?

- i.
- ii.
- iii.
-

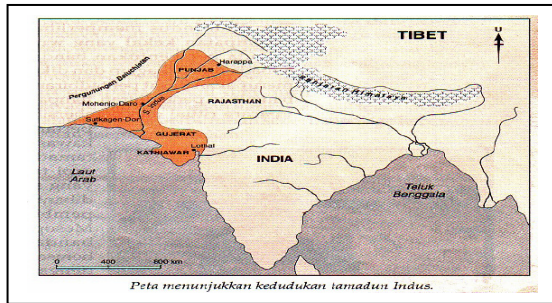
[3 markah]



BAB 1 KEMUNCULAN TAMADUN AWAL MANUSIA

Buku Teks m.s. 23 – 27

3. Peta di bawah menunjukkan dua bandar terancang Tamadun Indus.



Peta menunjukkan kedudukan tamadun Indus.

- (a) Senaraikan ciri-ciri bandar terancang Tamadun Indus.
-
 -
- [2 markah]
- (b) Nyatakan sumbangan Tamadun Indus dalam bidang sains dan tulisan.
-
 -
- [2 markah]
- (c) Apakah kegiatan ekonomi masyarakat tamadun Indus?
-
 -
- [2 markah]
- (d) Bagaimanakah amalan sikap keterbukaan Tamadun Indus dapat dicontohi dalam memajukan negara kita?
-
 -
- [2 markah]
- (e) Jika anda menjadi pegawai perancangan bandar pada masa depan, apakah bentuk bandar yang anda impikan?
-
 -
- [2 markah]

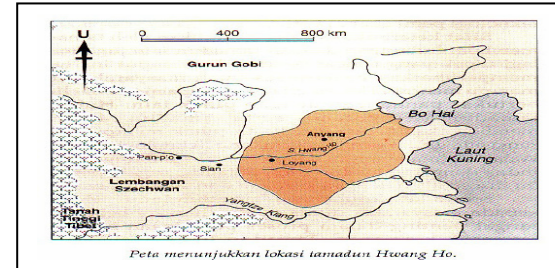


BAB 1 KEMUNCULAN TAMADUN AWAL MANUSIA

Item Esei

Buku Teks m.s. 28 – 33

1. Peta di bawah menunjukkan lokasi Tamadun Hwang Ho.



Peta menunjukkan lokasi tamadun Hwang Ho.

- (a) Jelaskan sistem pemerintahan Tamadun Hwang Ho bagi [6 markah]
- Dinasti Shang
 -
 -
 -
 -
 -
 -
 -
 - Dinasti Chou
 -
 -
 -
 -
 -
 -
 -
- (b) Jelaskan sistem organisasi sosial Tamadun Hwang Ho. [4 markah]
-
 -
 -
 -
 -



(c) Terangkan sumbangan Tamadun Hwang Ho kepada peradapan dunia.
[10 markah]

- F1
- H1a
- H1b
- H1c
- H1d

- F2
- H2a
- H2b
- H2c
- H2d

- F3
- H3a
- H3b
- H3c
- H3d

- F4
- H4a
- H4b
- H4c
- H4d

- F5
- H5a
- H5b
- H5c
- H5d

- F6
- H6a
- H6b
- H6c
- H6d

- F7
- H7a
- H7b
- H7c
- H7d

